

Comunicação e Expressão

1. Resposta B

Pessimismo e otimismo são considerados pelo autor como **contraditórios**, conforme se verifica em passagens do texto como “(...) formular paradoxos gratuitos (...)”.

São também considerados como **complementares** em passagens do texto como “(...) tenho uma séria inclinação para o pessimismo, mas entendo que ela se deve, justamente, à porção de otimismo que também está em mim”.

2. Resposta A

O autor usa o texto do *blog* citado para ratificar suas convicções: ao contrário do que pensa a maioria das pessoas, “(...) em sua lucidez, aos pessimistas é dado enxergar na escuridão a imagem do que lhes seria essencial” (o parâmetro da negatividade essencial), “e sentem-se como ninguém compelidos a agarrar-se a ela” (preservá-la).

3. Resposta B

Afirmiação I: **Falsa**. O autor nem “alimenta o prazer de formular paradoxos gratuitos”. Também não se trata de recurso estilístico.

Afirmiação II: **Correta**. “O otimista passa a temperar sua expectativa” (de atingir o êxtase da suprema felicidade) “com um pouco de pessimismo só para engrandecer ainda mais o êxtase almejado.”

Afirmiação III: **Falsa**. Emoções ambivalentes não se devem a variações de humor, e sim ao possível convívio entre inclinações para a mais rigorosa lucidez e para a mais generosa sensibilidade.

4. Resposta C

Repare no texto do *blog* usado pelo autor: “os otimistas em seu deslumbramento (...) os pessimistas em sua lucidez”. Portanto, estabelece-se uma relação opositiva entre otimistas e pessimistas, assim como entre **deslumbramento** e **lucidez**.

5. Resposta E

Negar pode ser substituído por **recusar**, e “as polaridades”, por **os extremos**. Veja a correção dos erros nas outras alternativas:

- ratifico** (confirmando) o que está acima.
- acrescentar** (juntar) seu **desejo** (esperança).
- infenso** (contrário) às **fantasias** (imaginações).
- mistura** de contradições.

6. Resposta E

A palavra “inóspita” significa **inospitaleira**, ou seja, “em que não se pode viver bem”, “rude”, “áspera”. “Inóspita” é antônimo de **acolhedora**.

7. Resposta A

A conjunção coordenativa “mas” é adversativa, estabelecendo, no texto, uma relação de **oposição** (contraposição) entre “jamais sorri (...) e não consegue ser efusiva com ninguém” (inamistosa) e “ter vagas para todos que topam submeter-se ao teste de sobrevivência” (desafiadora).

8. Resposta E

A palavra própria da linguagem informal é “topam”, usada no texto com o sentido de **concordar, aceitar** (o desafio).

9. Resposta D

O texto de *Veja* refere-se ao “jeito oferecido” (acolhedor) de Salvador, que Caetano Veloso ratifica em sua letra ao referir-se a Salvador como “um sonho feliz de cidade”.

10. Resposta C

Afirmiação I: **Falsa**. O sujeito de “será” é a **chegada** (subentendido), terceira pessoa do singular; o sujeito de “foste” é **tu** (desinencial), segunda pessoa do singular.

Afirmiação II: **Correta**. Há clara intertextualidade com a utilização de referências de um texto em outro.

Afirmiação III: **Correta**. “Será”: verbo **ser** no futuro do presente do indicativo; “foste”: verbo **ser** no pretérito perfeito do indicativo.

11. Resposta E

O diálogo entre autor e leitor está implícito nos verbos no modo imperativo (“desculpai”, “recebei”, “amai”), pois o termo verbal indica um pedido, uma sugestão do enunciador para o receptor, assim como o advérbio “agora” os coloca a ambos em um mesmo tempo e espaço.

12. Resposta A

Segundo Ana Paula Machado Velho, os textos veiculados nas emissoras de rádio devem reproduzir a oralidade do relato e usar outros signos sonoros para que se trabalhe a emotividade, a fim de facilitar o envolvimento entre locutor e ouvinte. Assim, o estilo deve ser simples, expressivo e transmitir emotividade à mensagem, como acontece no texto II.

13. Resposta B

A função emotiva da linguagem tem como objetivo transmitir sentimentos e emoções do emissor, por isso é centrada na primeira pessoa, tanto nas formas verbais (“esqueci”, “Estou”), quanto no pronome (“me”), exprimindo forte carga subjetiva. Ou seja, a atitude do enunciador se sobrepõe àquilo que está sendo dito.

14. Resposta A

Segundo o texto, “a partir do final do século XVI ou início do século XVII, nas áreas centrais da Colônia (Bahia e Pernambuco), houve núcleos de colonização que não se indianizaram, ao menos não intensamente. Esses novos colonos sentiam-se como ‘exilados’, e não como brasileiros. Procuravam manter a cultura europeia, evitando as influências tropicais. Linguisticamente, essa postura parece ter desenvolvido uma norma conservadora, que manteria o falar brasileiro relativamente infenso às inovações que se processaram em Portugal”. Assim sendo, podemos inferir que o português brasileiro apresenta aspectos linguísticos mais conservadores do que o português de Portugal.

15. Resposta B

Ao contrário do que se afirma na letra B, o eu lírico de Paulo Leminski demonstra o seu grande conhecimento gramatical, por meio de uma composição textual com traços de humor que lembra o formato da narrativa policial. É considerado, porém, um poema, devido à sua estrutura métrica e rítmica.

16. Resposta C

Segundo o texto, “somente se poderá conceituar cultura como autorrealização da pessoa humana no seu mundo, numa interação dialética entre os dois, sempre em dimensão social”. Assim, é necessário considerar as práticas humanas em seu contexto histórico-social e não se deve, portanto, desconsiderar o homem como produtor de seu universo cultural.

17. Resposta C

Gregório de Matos, poeta ícone do Barroco brasileiro, comumente cria poemas utilizando-se de figuras de linguagem como metáforas, antíteses, paradoxos e hipérbatos. A sensualidade e o refreamento são temáticas recorrentes em sua obra.

18. Resposta C

É recorrente na poesia satírica de Gregório de Matos a crítica a aspectos políticos e sociais do governo e dos governadores baianos. Assim, podemos afirmar que há, no poema, uma crítica implícita à forma de governo vigente: “Quem pode ser senão um verdadeiro — Deus, que veio estirpar desta cidade — o Faraó do povo brasileiro”.

19. Resposta A

Tomás Antônio Gonzaga, grande expoente do Arcadismo brasileiro, recorrentemente cria cenários bucólicos na obra *Marília de Dirceu*, pseudônimo pastoril do poeta mineiro. No poema em questão, o bucolismo evidencia-se especialmente no *locus amoenus* explícito na segunda estrofe.

20. Resposta B

Uma das grandes marcas da literatura árcade, que a diferencia da barroca, é o uso de uma estrutura frasal mais simples a partir da utilização da ordem direta dos elementos sintáticos da frase e de um vocabulário mais acessível.

Matemática

21. Resposta D

$$h(x) = f(x) \cdot g(x) \rightarrow h(x) = (ax + b) \cdot cx.$$

$$h(x) = acx^2 + bcx.$$

Se $x = 0 \rightarrow y = 0$. A função passa pela origem.

$$a > 0, b < 0 \text{ e } c < 0 \rightarrow ac < 0 \text{ e } bc > 0.$$

Logo, $h(x)$ é uma função quadrática, cujo gráfico é uma parábola com a concavidade voltada para baixo e tal

$$\text{que } x_v = \frac{-bc}{ac}.$$

Como $ac < 0$ e $bc > 0$, $x_v > 0$.

Então, a única figura que pode representar o gráfico de $h(x)$ é a da alternativa D.

22. Resposta A

Reduzindo ao mesmo denominador e simplificando:

$$15 \leq 5(x + 3) - 3(x - 1) \leq 30$$

$$15 \leq 5x + 15 - 3x + 3 \leq 30 \rightarrow 15 \leq 2x + 18 \leq 30$$

$$15 - 18 \leq 2x \leq 30 - 18$$

$$-3 \leq 2x \leq 12 \rightarrow -\frac{3}{2} \leq x \leq 6$$

Como x é inteiro, a soma S desses valores será: $S = -1 + 0 + 1 + 2 + 3 + 4 + 5 + 6 = 20$.

23. Resposta A

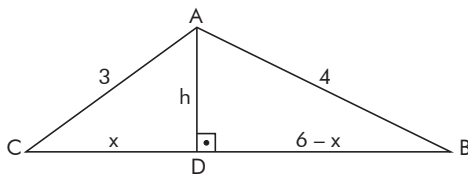
A função que representa a altura da pedra é dada por $h(t) = at^2 + 12t + 0$.

Logo, o valor da variável t que determina a altura máxima é dado por $t_{\max} = -\frac{12}{2a} = -\frac{6}{a}$.

Mas, pelos dados do enunciado, segue que $-\frac{6}{a} = 2$ e, portanto $a = -3$.

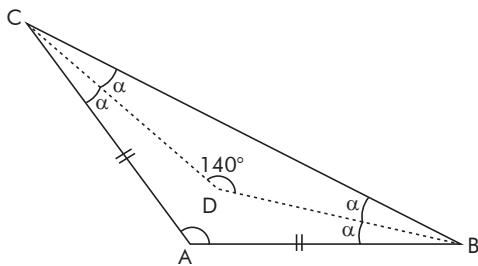
24. Resposta C

Temos $AD = 6$ cm e $EF = \frac{10}{3}$ cm. A área do triângulo AEF é $\frac{EF \cdot AD}{2} = 10$ cm².

25. Resposta E

Aplicamos o Teorema de Pitágoras nos triângulos retângulos ADC e ADB :

$$\begin{cases} h^2 = 9 - x^2 \\ h^2 = 16 - (6 - x)^2 \end{cases} \Rightarrow 16 - 36 + 12x - x^2 = 9 - x^2 \Rightarrow 12x = 29 \Rightarrow x = \frac{29}{12}$$

26. Resposta C

No $\triangle BCD$, temos $2\alpha + 140^\circ = 180^\circ$. Então $\alpha = 20^\circ$.

No $\triangle ABC$, temos $4\alpha + A = 180^\circ$. $A = 100^\circ$

Logo, $A = 100^\circ$, $B = C = 40^\circ$

27. Resposta D

$$\begin{array}{r} N \overline{) 13} \\ R \quad Q \end{array} \qquad \begin{array}{r} N + 2 \overline{) 13} \\ O \quad Q + 1 \end{array}$$

$$\begin{cases} N = 13Q + R \\ N + 2 = 13(Q + 1) \end{cases} \Rightarrow \begin{cases} N = 13Q + R \\ N = 13Q + 11 \end{cases} \Rightarrow 13Q + R = 13Q + 11 \Rightarrow R = 11.$$

28. Resposta A

$$A^2 = A \cdot A = \begin{pmatrix} 0 & 1 \\ -1 & -1 \end{pmatrix} \cdot \begin{pmatrix} 0 & 1 \\ -1 & -1 \end{pmatrix} = \begin{pmatrix} -1 & -1 \\ 1 & 0 \end{pmatrix}$$

$$A^3 = A^2 \cdot A = \begin{pmatrix} -1 & -1 \\ 1 & 0 \end{pmatrix} \cdot \begin{pmatrix} 0 & 1 \\ -1 & -1 \end{pmatrix} = \begin{pmatrix} 1 & 0 \\ 0 & 1 \end{pmatrix} = I_2$$

$$A^4 = A^3 \cdot A = I_2 \cdot A = A.$$

$$\text{Assim: } A^{21} = \underbrace{A^3 \cdot A^3 \cdot A^3 \dots A^3}_{7 \text{ fatores}} = \underbrace{I_2 \cdot I_2 \cdot I_2 \dots I_2}_{7 \text{ fatores}} = I_2$$

$$A^{22} = A^{21} \cdot A = I_2 \cdot A = A$$

$$A^{24} = A^{21} \cdot A^3 = I_2 \cdot I_2 = I_2$$

29. Resposta E

$$P \cdot Q = I \Rightarrow \begin{pmatrix} -2 & 1 \\ 0 & 3 \end{pmatrix} \cdot \begin{pmatrix} x & y \\ 0 & z \end{pmatrix} = \begin{pmatrix} 1 & 0 \\ 0 & 1 \end{pmatrix} \Rightarrow \begin{cases} -2x = 1 \\ -2y + z = 0 \\ 3z = 1 \end{cases} \Rightarrow x = -\frac{1}{2}, y = \frac{1}{6} \text{ e } z = \frac{1}{3}.$$

$$\text{Assim, } x + y + z = -\frac{1}{2} + \frac{1}{6} + \frac{1}{3} = 0.$$

30. Resposta B

Para a segunda posição temos 5 possibilidades e para a sexta temos 3, assim:

$$\begin{array}{ccccccccc} 6 & 5 & 5 & 4 & 3 & 3 & 2 & 1 \\ & \downarrow & & & & \downarrow & & \\ & 2^{\text{a}} \text{ posição} & & & & 6^{\text{a}} \text{ posição} & & \end{array}$$

O total de senhas é $6 \cdot 5 \cdot 5 \cdot 4 \cdot 3 \cdot 3 \cdot 2 \cdot 1 = 10800$.

31. Resposta B

Para separar 6 pessoas em 3 pares, devemos escolher os pares:

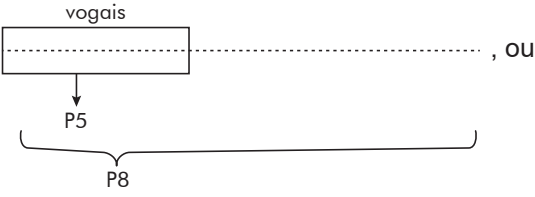
$$C_{6,2} \cdot C_{4,2} \cdot C_{2,2} = 90.$$

Como os pares são indistinguíveis, dividimos o total de pares pelas permutações entre eles.

$$\text{O total de modos é } \frac{90}{3!} = 15.$$

32. Resposta C

Total de anagramas: $P_{12} = 12!$

Anagramas que apresentam as vogais juntas:  , ou seja: $P_5 : P_8 = 5! \cdot 8!$

Logo, o total pedido é $12! - 8! \cdot 5!$

33. Resposta B

Em A, pelas 3 garrafas paga 2p.

Em B, paga: $3 \cdot 0,8p = 2,4p$

Pagando 2p, economiza 0,4p em relação à pior opção. A economia em relação à pior opção é de:

$$\frac{0,4p}{2,4p} = \frac{1}{6} = \frac{100}{6} \% \cong 16,7\%$$

34. Resposta E

$$5000 + 5000 \cdot 2\% \cdot (n + 5) = 4000 + 4000 \cdot 3,75\% \cdot n$$

$$1000 + 100(n + 5) = 150n \Rightarrow 50n = 1500 \Rightarrow n = 30$$

35. Resposta D

Um custo de 100 reais $\left(\frac{100}{3,20} \text{ dólares}\right)$ era constituído de 20 reais em matéria-prima e 80 reais em mão de obra.

Após o aumento, este custo passou a $(20 + 5\% \cdot 20) + (80 + 10\% \cdot 80)$, logo 109 reais ou $\frac{109}{p}$ dólares. Para manter o custo em dólares, o preço p do dólar deve ser tal que:

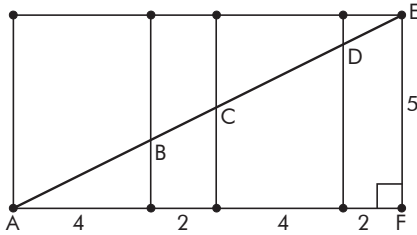
$$\frac{100}{3,20} = \frac{109}{p} \Rightarrow p = \frac{109}{100} \cdot 3,20 = 3,49$$

36. Resposta D

Seja x o número de alunos na turma, logo:

I. $\frac{\text{custo}}{x} = 30 \rightarrow \text{custo} = 30x$

II. $\frac{\text{custo}}{x-8} = 37,5 \rightarrow \text{custo} = 37,5(x-8) \rightarrow 30x = 37,5(x-8) \rightarrow x = 40$

37. Resposta B

Se planificarmos o paralelepípedo, temos:

$$AF = 4 + 2 + 4 + 2 = 12$$

Aplicando o Teorema de Pitágoras no triângulo AEF, temos:

$$AE^2 = 12^2 + 5^2 \Rightarrow AE = \sqrt{169} = 13$$

38. Resposta E

A medida de um dos lados da parede retangular deverá ser um múltiplo de 30 e de 50. O menor valor possível é $\text{mmc}(30, 50) = 150 \text{ cm} = 1,5 \text{ m}$.

A medida do outro lado deverá ser um múltiplo de 40 e 50;

O menor valor possível é $\text{mmc}(40, 50) = 200 \text{ cm} = 2 \text{ m}$.

A menor área dessa parede é $1,5 \text{ m} \times 2 \text{ m} = 3 \text{ m}^2$.

39. Resposta A

Total de agrupamentos de letras consecutivas: $\frac{A}{1} B C, \frac{B}{2} C D, \frac{C}{3} D E, \dots, \frac{w}{23} x y, \frac{x}{24} y z \rightarrow 24$ possibilidades

Total de agrupamentos de algarismos consecutivos: $\frac{0}{1} 1 2 3, \frac{1}{2} 2 3 4, \frac{2}{3} 3 4 5, \dots, \frac{6}{7} 7 8 9 \rightarrow 7$ possibilidades

Total de placas possíveis: $24 \cdot 7 = 168$

40. Resposta C

Cada impressora imprime 2500 páginas em 30 minutos. Uma impressora 20% mais eficiente imprime $(2500 + 20\% \cdot 2500)$, logo 3000 páginas em 30 minutos, portanto 100 páginas por minuto. Para imprimir

3600 páginas levará $\frac{3600}{100}$ minutos, logo 36 minutos.

Língua Inglesa e Interpretação de Textos

41. Resposta E

42. Resposta D

43. Resposta D

44. Resposta A

45. Resposta D

46. Resposta E

47. Resposta D

48. Resposta E

49. Resposta C

50. Resposta B

Humanidades e Cultura Geral Contemporânea

51. Resposta C

52. Resposta A

53. Resposta C

54. Resposta D

55. Resposta E

56. Resposta C

57. Resposta D

58. Resposta B

59. Resposta C

60. Resposta C

61. Resposta B

Não encontrando riqueza fácil no Brasil, entre 1500-1530 Portugal deixou o Brasil em segundo plano, priorizando o comércio das especiarias no Oriente. A colonização propriamente dita começou com a implantação das Capitânicas Hereditárias em 1534, com a divisão do Brasil em grandes faixas de terras entre o litoral e a linha de Tordesilhas, culminado nas grandes propriedades, que tanto caracterizam o Brasil.

62. Resposta A

O texto do colunista Jânio de Freitas aponta para a relação entre metrópole e colônia, mostrando que no Brasil surgiu uma elite branca herdeira do colonizador. Essa elite branca implantou o modelo *plantation* na colônia, isto é, latifúndio, escravidão, monocultura e a economia visando ao mercado externo associado ao mercantilismo europeu. Jânio de Freitas também afirma que o Império e a República não romperam com esse passado colonial. "(...) O sistema aí nascente projetou-se na história como um processo sem interrupção, sem sequer solavancos. Escravocrata por tanto tempo, fez a abolição mais conveniente à classe dominante, não aos ex-escravizados. A República trouxe recusas superficiais ao Império (...)".

63. Resposta E

A colonização portuguesa no Brasil nunca se caracterizou pelo incentivo intelectual ou educacional. Sendo assim, não existia no engenho atividade intelectual.

64. Resposta E

Durante o processo de colonização iniciado no século XV, surgiram dois tipos de colônia: as de exploração, voltadas para o enriquecimento da metrópole, e as de povoamento, onde existia relativo afrouxamento do Pacto Colonial.

65. Resposta C

A presença holandesa no Brasil colonial, por meio do governo das Companhias das Índias Ocidentais, ajudou a desenvolver a capitania de Pernambuco, em especial na produção de açúcar. Mas a presença holandesa não modificou o panorama social da Colônia, beneficiando, assim, as elites.

66. Resposta B

As ideias de Bacon expressam, já no século XIII, o crescimento do pensamento racional que marcaria o Renascimento. Esse racionalismo entrava em choque com a visão teocêntrica medieval, mesmo com a Igreja já incorporando alguns elementos do pensamento racional através do Tomismo. Mas as ideias de Bacon iam muito além dos limites impostos pelo pensamento religioso e se constituem em precursoras do Renascimento Cultural.

67. Resposta E

Ao propor uma interpretação da Bíblia que fugisse do sentido literal das palavras ali contidas, Galileu entrou em choque com o monopólio que a Igreja se atribuía do conhecimento religioso. Mais do que isso, Galileu propõe que a Bíblia não pode ser tomada como dogma nas discussões naturais e científicas.

68. Resposta C

A visão de Perry Anderson é de que o Estado absolutista é um Estado essencialmente nobre. O rei exerce o papel de defensor dos interesses e do poder da nobreza, sufocando as revoltas camponesas e assegurando a essa nobreza o domínio das terras e os comandos militares e administrativos, bem como dá a ela uma série de regalias. Ao mesmo tempo, o rei procurou criar condições para o crescimento da atividade mercantil, atraindo com isso o apoio da burguesia.

69. Resposta A

De fato, não apenas Rousseau, mas o pensamento iluminista, de um modo geral, teve nas ideias de Hobbes seu grande alvo em termos políticos. Ao afirmarem que o homem é naturalmente bom e que se uniu em sociedade para a defesa de interesses comuns, essa visão leva à conclusão de que o Estado só é legítimo se expressar a vontade do povo, explicitamente manifesta por meio de seus representantes eleitos, negando a base teórica que justificava o absolutismo.

70. Resposta D

Além do fato de a independência dos EUA ter sido anterior ao primeiro arranco da industrialização na Inglaterra, era claro que a manutenção de suas colônias seria fundamental no sentido de ampliar os mercados para a produção industrial britânica.

71. Resposta A

Do ponto de vista ambiental, é necessário observar todos os itens apresentados. A tragédia de Mariana (rompimento das barragens) expôs a situação da bacia do Rio Doce (MG/ES/Atlântico), ampliando o debate não apenas sob o ponto de vista ambiental, mas também social.

72. Resposta D

Reveja nos cadernos de aulas os mapas temáticos — geologia, relevo etc. Estude geografia, procurando sempre localizar os fenômenos em mapas.

73. Resposta B

Uma das teorias mais importantes que vão nessa direção é a da Deriva Continental. Verificando que os contornos da América do Sul correspondiam aos da África, Alfred Wegener, geofísico alemão, admitiu a hipótese de um continente único (Pangeia), no passado, que teria se dividido há cerca de 130 milhões de anos (Jurássico/Era Mesozoica) em duas partes, Laurásia e Gondwana (com as áreas citadas na questão), devido ao movimento de deslocamento das massas sólidas sobre massas líquidas. Essa hipótese abriu caminho para a teoria das Placas Tectônicas. Assim, juntando-se essas teorias, encontramos o apoio explicativo para um conjunto de fenômenos de nosso planeta, como as semelhanças e as diferenças de espécies animais e vegetais distribuídos nos cinco continentes do planeta.

74. Resposta C

Os desenhos de Percy Lau, ilustrador do IBGE por 28 anos, encontram-se no acervo da biblioteca do Instituto de Estudos Brasileiros da Universidade de São Paulo. O lado documental das paisagens brasileiras pesou fortemente sobre a sua criação.

Os elementos presentes nas figuras permitem identificar:

1. “Vaqueiro do Nordeste” (caatinga);
2. “Boiadeiro e tropa” (cerrado); e
3. “O gaúcho” (campos).

Sobre os climogramas:

- I. Equatorial (quente e úmido);
- II. Tropical típico (alternadamente úmido e seco);
- III. Semiárido (quente com chuvas escassas e mal distribuídas);
- IV. Subtropical (elevada amplitude térmica e chuvas regulares);
- V. não identifica clima do Hemisfério Sul (temperaturas elevadas no meio do ano).

75. Resposta E

Do ponto de vista geológico, rocha é um sólido consolidado, formado por um ou mais minerais (minério). A hematita constitui o principal minério de ferro (rocha), sendo economicamente viável sua exploração, dada a composição do metal em sua estrutura. Assim como a bauxita (minério de alumínio), os minerais metálicos associam-se aos escudos cristalinos. A medida protecionista de Trump, sob o argumento da segurança nacional com o intuito de proteger sua indústria siderúrgica, prejudica o Brasil, visto que somos o segundo maior exportador de aço para os EUA.

76. Resposta D

- I. Falsa. A tabela mostra a proporção de robôs para cada 10 000 trabalhadores e o número de trabalhadores da China (1,3 bilhão de habitantes) é muito superior ao da Coreia do Sul (51 milhões). Se a afirmação falasse de **números relativos** de robôs para grupos de 10 000 trabalhadores, aí sim estaria correta.
- II. Falsa. A tabela deixa claro que não há relação direta entre número de desempregados e número de robôs utilizados. Os oito primeiros mais robotizados não apresentam os maiores índices de desemprego.
- III. Falsa. A Malásia não pertence à primeira geração de Tigres Asiáticos. Mas, de fato, exceto Hong Kong, a primeira geração está em posição de destaque na robotização da indústria (Coreia do Sul — 1º, Cingapura — 2º e Taiwan — 6º).
- IV. Verdadeira. As indústrias buscam, com a robotização, conseguir custos menores e qualidade melhor em relação à mão de obra.
- V. Verdadeira. Os países listados são os únicos do ex-bloco socialista que aparecem entre os 24 mais robotizados destacados na tabela, com mais de 69 robôs para cada 10 000 trabalhadores, excetuando-se a ex-Alemanha Oriental (RDA), que se reuniu com a Ocidental e que, portanto, está também incluída no grupo.

77. Resposta C

A descrição corresponde ao Nordeste dos EUA, onde se situa a megalópole que inclui Boston, Nova York, Filadélfia, Baltimore e Washington D.C.

As alternativas A e D apresentam informações corretas, porém não correspondem às características da descrição no texto da questão.

Na alternativa B, as áreas agrícolas das planícies centrais são de fato mecanizadas e, por isso mesmo, concentram menor população.

Na alternativa E, a megalópole Chicago — Pittsburg localiza-se na porção meridional (sul) dos Lagos.

78. Resposta A

Apenas a economia chinesa apresentou grande crescimento após a transição, levando o país a registrar recentemente o segundo maior PIB do mundo.

As áreas mais populosas da China e da Rússia são, respectivamente, o oeste (porção europeia) e o leste (planícies orientais).

Apenas a China, no governo de Deng Xiaoping, seguiu o caminho de criar áreas abertas ao capitalismo internacional, com foco no comércio externo, durante os anos de 1980, denominadas Zonas Econômicas Especiais. Nessa década, a Rússia tentava algumas reformas econômicas por meio da Perestroika, porém consideradas tímidas perto das ações chinesas.

79. Resposta C

A industrialização tardia no mundo subdesenvolvido caracterizou-se por se apresentar sob dois modelos: o latino-americano e o asiático. Em ambos, os fatores de incentivo foram os investimentos estrangeiros e a produção da infraestrutura industrial pelo Estado. Porém, no que se refere ao destino da produção, os dois modelos diferem: os latino-americanos (“substituição das importações”), produzindo para o mercado interno, e os asiáticos, transformando-se em “plataformas de exportação”.

80. Resposta D

- I. (V) Como depende muito de exportações, sua economia sofreu com a desaceleração da economia mundial, assim como com terremotos e *tsunamis*, que trouxeram grandes prejuízos.
- II. (F) O Banco do Japão introduziu taxas de juros negativas em janeiro de 2016 com a intenção, entre outras, de estimular o consumo e aquecer a economia interna.
- III. (V) A dívida pública é a maior do mundo, acima de 240% do PIB.
- IV. (F) A TPP (Parceria Transpacífica) foi criada para harmonizar as leis e reduzir as tarifas para contrabalançar o crescimento da influência da China na bacia do Pacífico. No entanto, o futuro da Parceria é incerta, já que Donald Trump retirou os Estados Unidos da parceria ao ser eleito, em janeiro de 2017.